




Правила поведения на дороге в осенние каникулы.



Безопасное поведение осенью на дорогах





Переходи дорогу по пешеходным переходам.
Они обозначаются специальными дорожными знаками
и разметкой.





**Переходя дорогу на зелёный сигнал светофора,
смотри внимательно: все ли машины остановились,
не движется ли спецтранспорт.**






**Не перебегай дорогу, где попало,
даже если ты очень спешишь или тебя зовёт друг.
Дойди до пешеходного перехода.**



Выбери безопасный путь движения



Мальчик стоит и смотрит на схему дороги. Помоги ему безопасно дойти:
до дома, где живёт его друг;
от дома друга до парка;
от парка до магазина;
от магазина до дома, где живёт мальчик.

КАНИКУЛЫ! ВРЕМЯ ЗАСВЕТИТЬСЯ НА ДОРОГЕ!



СКОЛЬКО ДЕТЕЙ ВИДИТЕ ВЫ?

А ВОДИТЕЛЬ УВИДИТ ТОЛЬКО ЧЕТВЕРЫХ!

ДОРОГИЕ РОДИТЕЛИ!

Осень. Каникулы. Темнеет рано. Дети гуляют много.

Убедитесь, что на их одежде есть
световозвращающие элементы и их хорошо видно.

Берегите детей!

БЕЗДТП РФ

Что такое световозвращатель?

<http://feliciya-2012.ru>

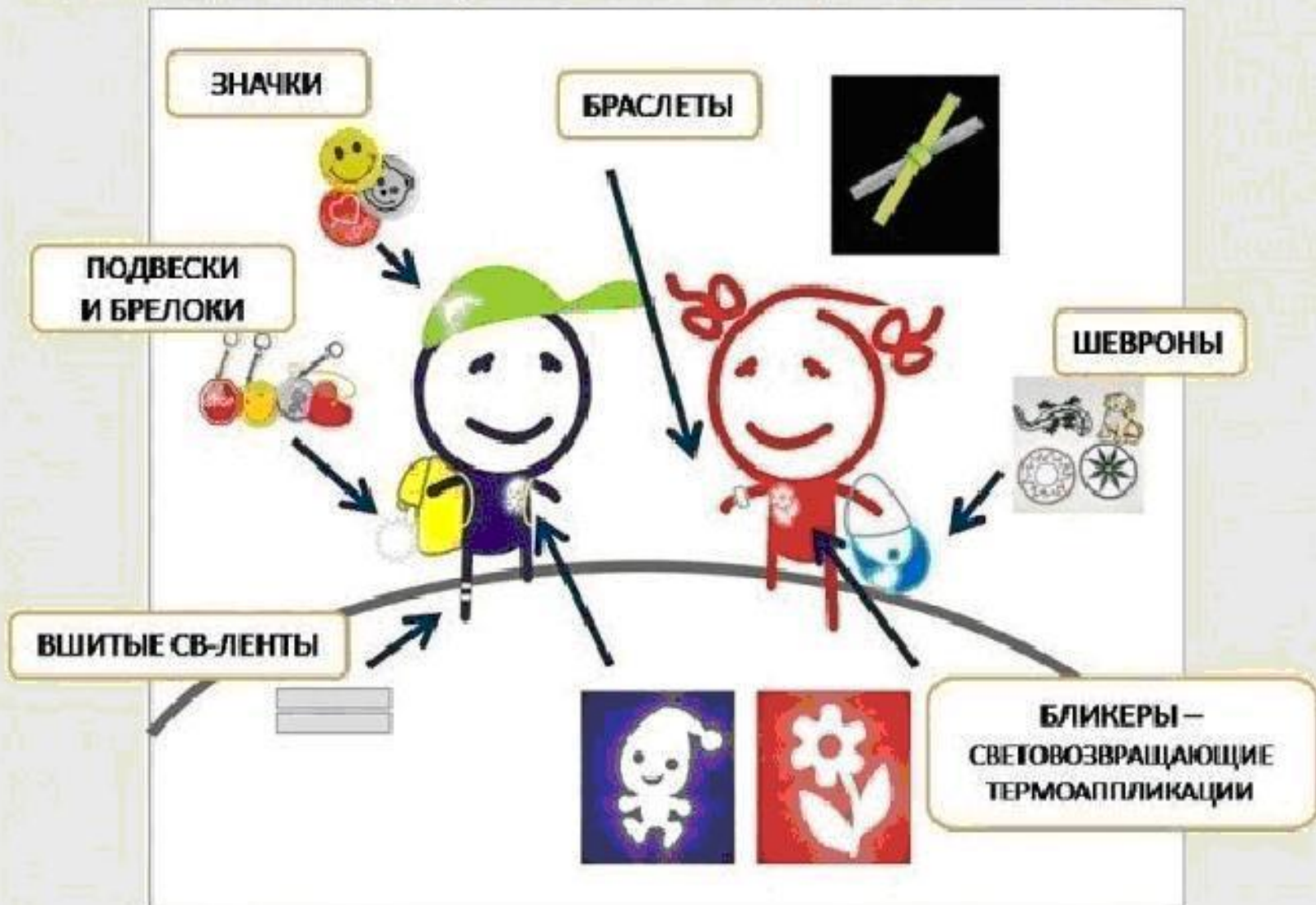


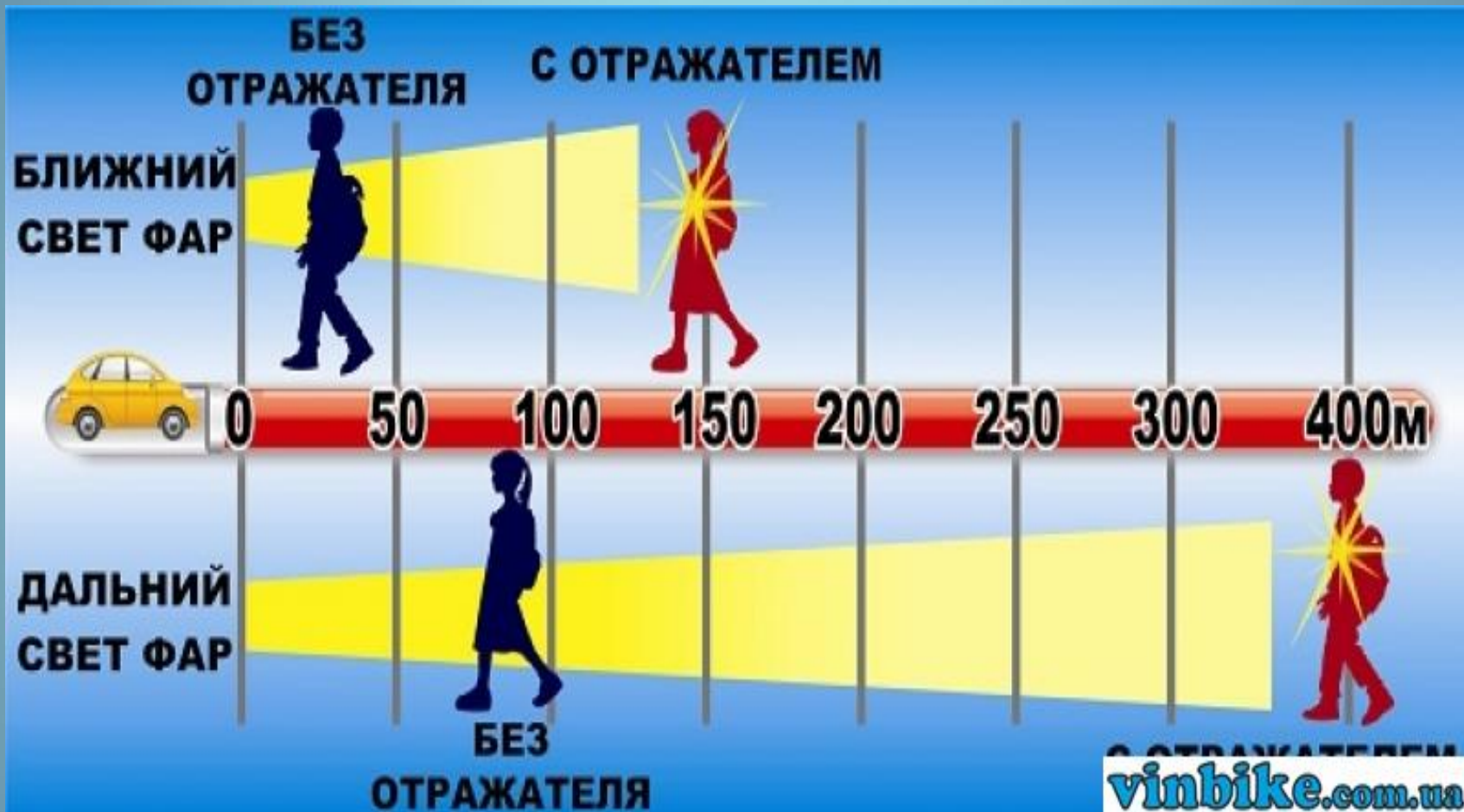
Световозвращатели (СВ элементы) позволяют в тёмное время суток быстрее заметить объект, на котором они установлены.

СВ элементы работают по принципу дорожных знаков: они покрыты специальным материалом, который возвращает свет к источнику.

СВ элементы прикрепляется к одежде, велосипедам или коляскам и делает пешеходов видимыми на дороге в темное время суток при попадании света автомобильных фар.

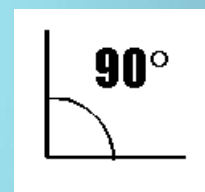
СВЕТОВОЗВРАЩАТЕЛИ БЫВАЮТ:



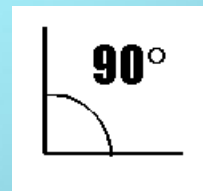


В какой последовательности располагаются правила Устава «Зеленого креста»?

1




2




Когда загорелся зеленый сигнал светофора, что нужно делать?

1. Пропустить всех старушек и даму с собачкой.
2. Бежать со всех ног.
3. Остаться стоять на месте.
4. Убедиться, что все транспортные средства остановились, и перейти дорогу.




На какой проезжей части транспортные средства лучше тормозят?



- 1. На мокрой.**
- 2. На обледенелой.**
- 3. На сухой.**

Какой из светофоров применяется для регулирования движения пешеходов?


1.



2.



3.



Вопрос № 9

Какой из этих дорожных знаков обозначает место, где можно переходить проезжую часть?

1



2



1. Знак № 1

2. Знак № 2

3. Оба знака.

В каком из этих мест пешеходу разрешен выход на проезжую часть?



Весёлых и безопасных осенних
каникул, ребята!

